



Dual Language Immersion

Grade 4 Spanish At-Home Packet Week 1

In order to support parents' efforts to maintain a learning environment for students, UCPS has compiled these optional resources for practice.

There is no expectation that this packet is returned to school at any time.

If you have questions about any of the content contained in this packet, please reach out to your child's teacher.

Digital resources are available on the EmpowerED Family Portal.

<http://bit.ly/EmpowerEDportal>

Tablero de actividades (Activity Board)

Cada día escoge 2 actividades. Al terminar, colorea el cuadro correspondiente. Cuando complete todo el cuadro, ¡celebra!..has hecho un buen trabajo repasando.

Choose two activities each day. When you are done color the number. Celebrate when you finish it all.

1	2
3	4
5	6
7	8

4th DLI Math- Matemáticas Semana 1

Show your work to solve all problems, use a separate sheet if needed.

Actividad 1	<ul style="list-style-type: none">- Shakira fue al centro comercial y compró 4 pares de zapatos. Cada zapato cuesta \$94. Ella también compró 4 camisas a \$38 cada una. ¿Cuánto dinero gastó?- Halla el producto usando un modelo de área 64 x 39- Charlie está organizando los libros de su habitación. Él tiene 256 libros de ficción histórica. Él tiene 6 veces la misma cantidad de libros de Misterio que de Ficción Histórica. ¿Cuántos libros de misterio tiene Charlie?- $92,564 + 2,689$- ¿Cuál es valor del número subrayado? <u>6</u>72,198
--------------------	---

<p>Actividad 2</p>	<ul style="list-style-type: none"> - Escribe tres fracciones equivalentes para cada fracción. $\frac{4}{8} \quad \frac{3}{5} \quad \frac{1}{2}$ <ul style="list-style-type: none"> - Halla el producto usando modelo de área 58 x 62 - ¿Cuál fracción es mayor que 1? $\frac{11}{10} \text{ ó } \frac{7}{8} \text{ -Muestra tu trabajo con recta numérica.}$ <ul style="list-style-type: none"> - 58,652 - 6,864 = - Escribe el siguiente número en su forma estándar 41 millares, 15 centenas, 12 decenas, 9 unidades
---------------------------	---

<p>Actividad 3</p>	<ul style="list-style-type: none"> - El sábado Sebastián trabajó en su jardín durante $3\frac{5}{6}$ horas. El domingo trabajó otras $4\frac{1}{6}$ horas en su jardín. ¿Cuánto tiempo trabajó en su jardín en total? - El director de la escuela compró 342 pizzas para compartir con la escuela. Él planea compartir las pizzas en partes iguales entre los 6 niveles. ¿Cuántas pizzas recibirá cada nivel? ¿cuántas sobran? - Chloe tiene 14 videos en TiKTok. Josh tiene 5 veces los videos de Chloe.¿Cuántos videos tiene Josh? - ¿Cuál es la posición del dígito subrayado? <u>9</u>7,491 _____ - ¿Cuál es el valor del dígito subrayado? 9,4<u>5</u>2 _____ - La maestra de Artes va al gimnasio por 56 minutos. Ella llega al gimnasio a las 3:38 pm. ¿A qué hora saldrá del gimnasio?
---------------------------	--

Actividad 4 Sociales *(Social Studies Reading Passage)*

Carolina del Norte y sus regiones (NC Regions)

Carolina del Norte es uno de los estados de EE.UU. Tiene algunos estados que limitan los cuales son: Tennessee, Carolina del Sur, Georgia y también el Océano Atlántico. Nuestro estado tiene 100 condados en total. Nuestra escuela forma parte del Condado Unión.

¿Conoces las regiones de nuestro estado?

Vamos a leer un poco de cada uno de ellas para que luego, puedas ubicar los diferentes pueblos, ciudades y lugares importantes en un mapa del estado. El estado de Carolina del Norte está dividido en tres grandes regiones: Región Montaña, Piedmont y Coastal Plains.

En cada región hay pueblos, ciudades, condados y lugares importantes que debemos conocer. Comenzaremos con la Región Coastal Plains...

La Región Coastal Plains se encuentra entre el Océano Atlántico y la Región Piedmont de Carolina del Norte. Es conocida por sus enormes cordilleras de arena, islas, tierras pantanosas y sonidos. Las principales ciudades incluyen Wilmington, Fayetteville y Jacksonville. En esta región también se encuentran los Outer Banks. En los Outer Banks se encuentran tres Cabos: Cabo Hatteras, Cabo Lookout y Cabo Fear. El Faro de Cabo Hatteras es el faro más alto de Estados Unidos con 64 metros de altura. ¿Qué interesante verdad? Asimismo, es el faro más alto del mundo construido con ladrillos. En esta región hay muchos otros lugares también interesantes como el Monumento nacional de los hermanos Wright en Devils Hill y la ciudad de Wilmington.

La segunda Región de nuestro estado es la de Piedmont; se encuentra entre la Región Coastal Plains y la Región Montaña.. En esta región encontramos las 5 ciudades más grandes del estado. Raleigh, es la capital de nuestro estado y Charlotte, es la ciudad más grande de Carolina del Norte. En esta región hay muchos ríos. Muchos de ellos nombrados en honor la tribus de los nativo americanos., algunos de ellos son: Piedmont, Yadkin y Catawba.

La tercera Región es la Región Montaña; se encuentra al oeste del estado, al lado de la Región Piedmont. allí se encuentran las Montañas Negras, las Montañas Apalaches, montaña del Abuelo entre otras. Asheville es una ciudad importante de esta Región. Esta Región es muy visitada por muchos turistas cada año. Algunos de

los lugares favoritos que se visitan son: la Mansión Biltmore construida por George Vanderbilt y es la mansión más grande de EE.UU. El Blue Ridge Parkway es una carretera que pasa por varias montañas y se observa la belleza del paisaje.

Nuestro estado de Carolina del Norte es muy bello y es importante conocerlo. Te invitamos a contestar algunas preguntas de la lectura:

Lee y responde con oraciones completas de Cuarto grado (Answer the following questions):

1- ¿Por qué crees que Carolina del Norte tiene tantos Faros?

2- ¿Alguna vez has visitado a algunas de estas Regiones? Escribe a dónde fuiste y por qué.

3- Escribe el nombre de tres Cabos en esta región.

4-¿Por qué es importante el Faro de Hatteras?

5-¿Quiénes eran los Hermanos Wright?

6- Cuántos condados tiene nuestro estado?

7- Cuáles son los estados que limitan con nuestro estado?

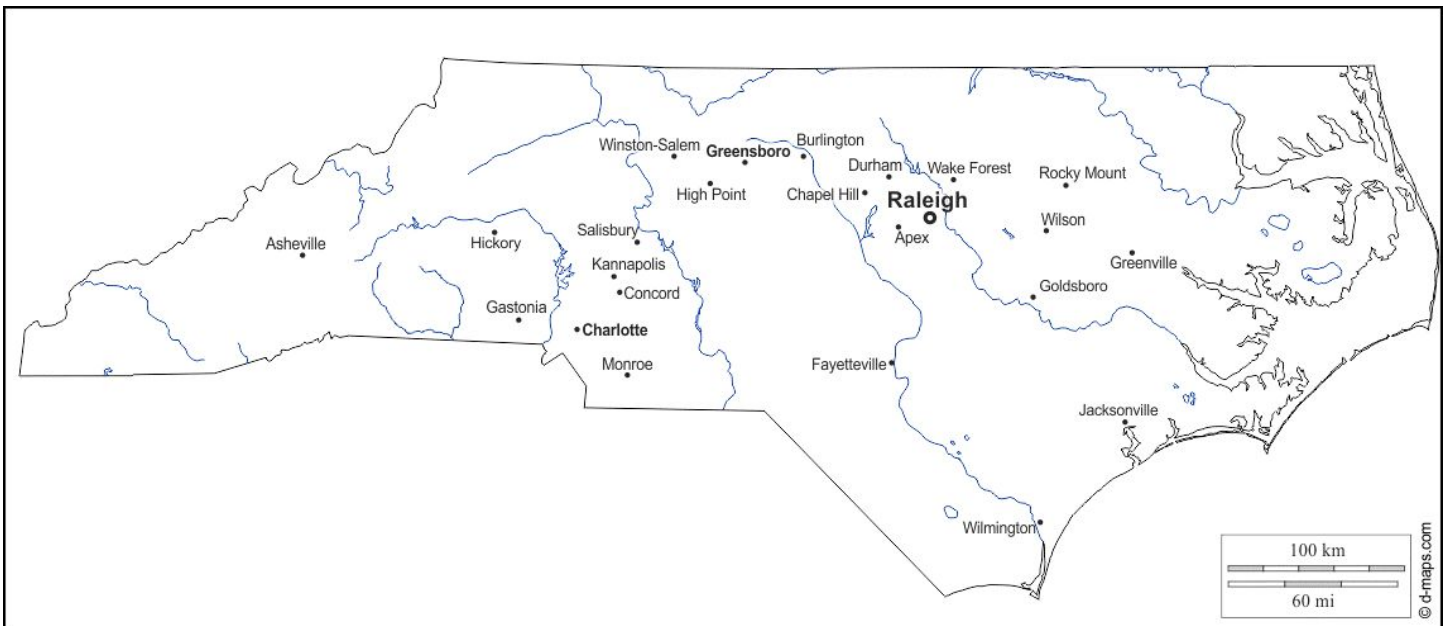
8- Revisa el mapa de Carolina del Norte y realiza las actividades:

a- Encierra en un círculo, todas las ciudades mencionadas en la lectura.

b- Escribe el nombre de cada Región donde corresponda.

c- Ubica en el mapa el lugar donde vives y escribe si es un pueblo o ciudad.

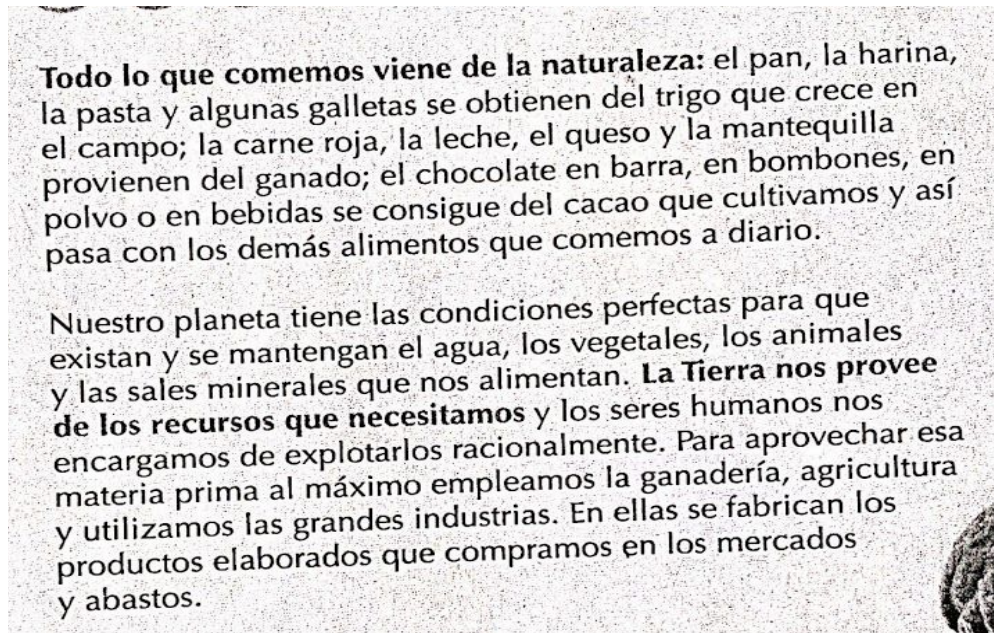
d- Señala en el mapa dónde se encuentra el Condado Unión.



Actividad 5 Ciencias (Science): Los Alimentos

Leer el artículo y realiza la actividad siguiente (Read and follow the instruction):

Abre el refrigerador de tu casa, y escribe todos los alimentos que ves en él.



©Revista Tricolor

En mi refrigerador yo tengo ...		
*	*	*
_____	_____	_____
*	*	*
_____	_____	_____
*	*	*
_____	_____	_____
*	*	*
_____	_____	_____
*	*	*
_____	_____	_____

Actividad 6 Sociales: Bailes y Danzas

Read the passage to make a Venn diagram comparing and contrasting dances from Venezuela.

Lectura sobre Venezuela, país de América del Sur. Lee el siguiente artículo y realiza un Diagrama de Venn comparando y contrastando “El joropo” y “El tambor”




Me conecto con...

Ciencias Sociales

Muchos de los bailes y danzas tradicionales típicos de Venezuela, son propios de regiones específicas del país, como los Andes, Oriente, Occidente o los Llanos.



El joropo es considerado el principal baile tradicional de Venezuela, por representar uno de sus valores más autóctonos.



El baile de tambor suele ser ejecutado por una pareja, alrededor de la cual se disponen los demás bailarines, en forma de círculo.

BAILES Y DANZAS TRADICIONALES DE VENEZUELA

Venezuela posee una gran cantidad de **manifestaciones culturales**. Muchas de ellas son bailes y danzas tradicionales, o incluyen algún elemento de expresión de este tipo.

La mayoría de nuestros bailes y danzas tradicionales poseen influencias indígena, africana y europea. Sin embargo, se han adaptado a nuestra cultura con pasos, ritmos musicales y vestuarios propios.

Entre los bailes tradicionales venezolanos tenemos el joropo, el tambor, el calipso, la gaita y el merengue venezolano o merengue cañonero. Algunas danzas tradicionales muy representativas son los diversos diablos danzantes y el tamunangue.

El joropo

Es un baile propio de la región de los llanos bajos y centrales de Venezuela. Se baila al ritmo del arpa, el cuatro y las maracas. En algunos casos la música se ejecuta con violín.

El joropo se baila en pareja. El estilo principal es el zapateo recio, con figuras y vueltas. También se puede interpretar escobilla'o y valsea'o, es decir, arrastrando los pies.

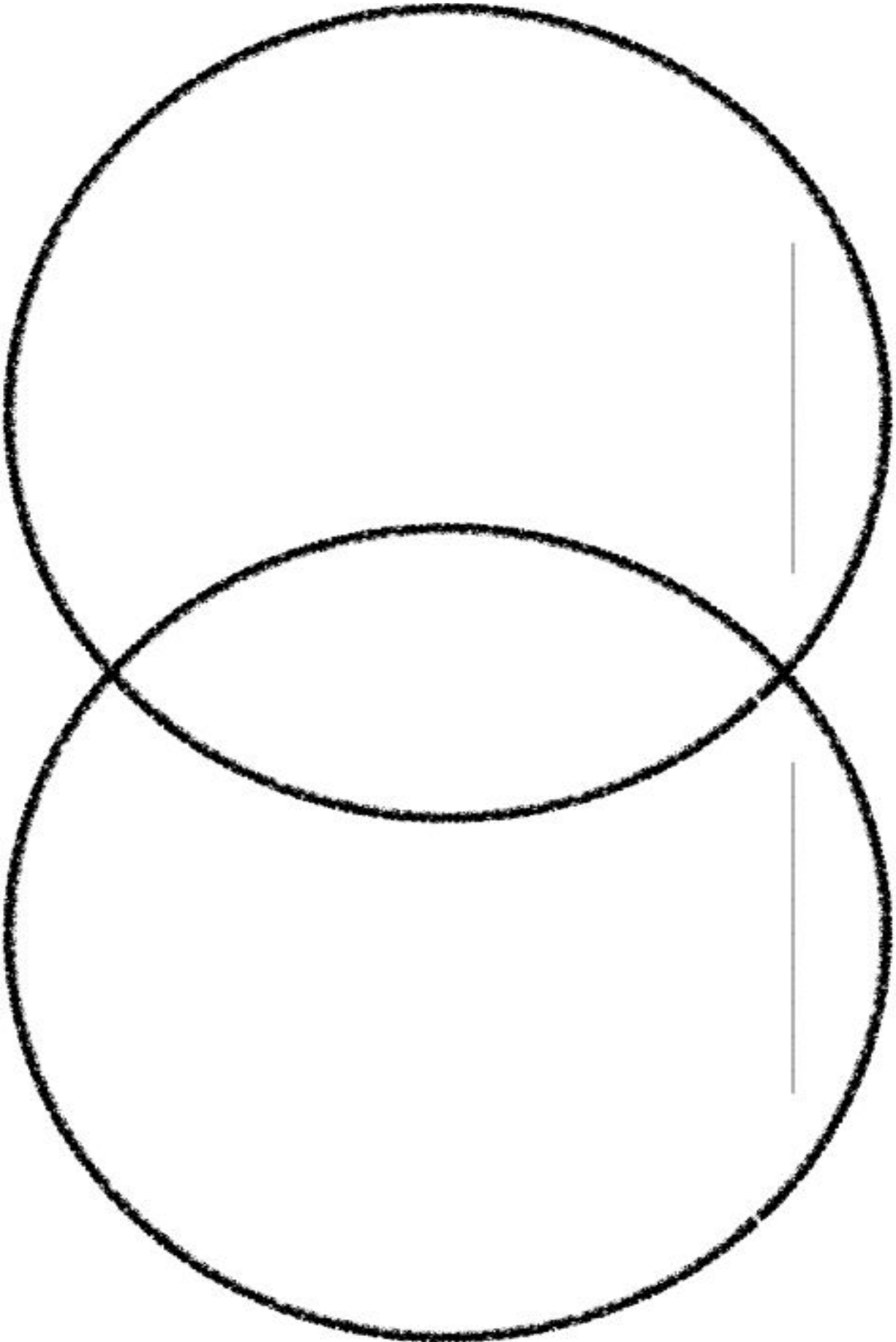
El vestuario apropiado para el baile de joropo es el liquiliqui, para los hombres. Las mujeres usan vestido o falda estampada con flores, y una blusa blanca.

El tambor

Es un baile propio de las zonas costeras de Venezuela, que tiene una gran influencia africana. Se baila en parejas al ritmo de tambores. Estos instrumentos pueden tener diversas formas y sonidos.

El baile de tambor se interpreta en forma libre. Se basa en movimientos de cintura y cadera, que siguen el ritmo de la música.

Este baile suele realizarse para conmemorar a San Juan y no requiere un vestuario específico.



Actividad 7 Trabaja con vocabulario

Escoge una palabra nueva de la lectura sobre los bailes de Venezuela y completa las siguientes actividades.

Palabra:

Significado:

Dibujo:

Escribe una oración:

Actividad 8 Escribe sobre la lectura

Escoge uno de los bailes de los que te hablan en la lectura y crea un escrito en el que expliques cuál baile te gustaría aprender y por qué, debes incluir tres razones para tu respuesta. Recuerda escribir oraciones completas.
